

CPB ASSESSMENT

Section 1 (Reading)

ADMINISTER THIS SECTION WITH ALL CHILDREN AND MARK THEM AT THEIR HIGHEST LEVEL

Start
Here

C	L
T	
M	Q
G	

بچے سے تمام حروف پڑھنے کو کہیں جس میں سے کم از کم چار صحیح ہونے چاہیے۔

Book	Sky
Sun	
Tree	King
Play	

بچے سے تمام الفاظ پڑھنے کو کہیں جس میں سے کم از کم چار صحیح ہونے چاہیے۔

Hira is my <u>sister</u> ?
She loves to <u>sing</u> .
She <u>plays</u> with <u>toys</u> .
She likes to <u>eat</u> <u>rice</u> .

بچے سے تمام جملے پڑھنے کو کہیں جس میں سے کم از کم دو صحیح ہونے چاہیے۔

Section 2 (Meaning)

صرف ان بچوں کے لئے جو سیکشن 1 میں ورڈ (Word) یا لیول (Sentence) لیول پر ہیں۔

- ورڈ (Word) لیول کے بچوں کے لئے: جو الفاظ بچے نے صحیح پڑھے ہیں اس سے ان الفاظ کے معنی ان کی مقامی زبان میں پوچھیں۔ اگر بچہ چاروں الفاظ کے صحیح مطلب بتائے تو اسے '1' کا کوڈ
Can Tell والے خانے میں لگائے ورنہ Cannot Tell والے خانے میں لگائے۔
- سینٹینس (Sentence) لیول کے بچوں کے لئے: جو جملے بچے نے صحیح پڑھے ہیں اس سے ان جملوں کے معنی ان کی مقامی زبان میں پوچھیں۔ جو جملے بچہ پڑھا پایا ہے اگر ان دونوں کے صحیح مطلب بتائے تو اسے '1' کا کوڈ Can Tell والے خانے میں لگائے ورنہ Cannot Tell والے خانے میں لگائے۔
اگر بچہ صرف دونوں جملوں کے (Underlined) الفاظ کے مطلب بھی بتادے تو آپ اسے Can Tell میں '1' کا کوڈ دیں۔

Section 3 a (Story Reading)

صرف ان بچوں کے لئے جو سیکشن 1 میں کم از کم سینٹینس (Sentence) لیول تک پہنچ چکے ہیں۔
بچے کو کہانی پڑھنے کو کہیں جب بچہ پڑھ رہا ہو تو غور سے سنیں اور اسے (Assessment Form) پر کوڈ کریں۔

Story

Salma is a little girl. She had a pretty doll. One day she was playing with her doll. It fell down from her hand and broke into pieces. Salma was very sad. She cried a lot. Her mother gave her a new doll. Now she is very happy.

Section 3 b (Comprehension)

یہ سیکشن تمام لیول (Level) کے بچوں کے لئے ہے۔

- اوپر دی گئی کہانی بچے کو پڑھ کر سنائیں اور پھر ان سے نیچے دیئے گئے سوال پوچھیں۔
- بچے سے پہلا سوال پوچھیں اور پھر اس کے جواب کا انتظار کریں۔ جب بچہ پہلے سوال کا جواب دے دے تو پھر دوسرا سوال پوچھیں۔
- بچے سے سوال اُردو یا اس کی مقامی زبان میں ہی پوچھیں اور ایک سوال دوسرے سے زیادہ نہ دہرائیں۔
- بچہ انگلش میں یا مقامی زبان میں جواب دے سکتا ہے۔ بچے کے جواب کے مطابق (Assessment Form) پر کوڈ کریں۔


- 1 نئی گڑیا کس نے دی؟
- 2 سلمہ اداس کیوں تھی؟

Section 4 (Pictures)



صرف ان بچوں کے لئے جو سیکشن 1 میں سینٹینس (Sentence) لیول تک پہنچ چکے ہیں۔

- بچے سے تمام تصاویر کے اوپر دیئے گئے سوالات ایک ایک کر کے پوچھیں۔
- کسی بھی تصویر پر دو دفعہ سے زیادہ سوال نہ دہرائیں۔
- اگر بچہ اپنی مقامی زبان میں جواب دے تو اسے کہیں کہ وہ وہی جواب انگریزی میں دے۔ صرف مقامی زبان میں دیئے گئے جواب غلط ہوں گے۔



کیا کر رہے ہیں؟




کون ہے؟




کیا ہے؟



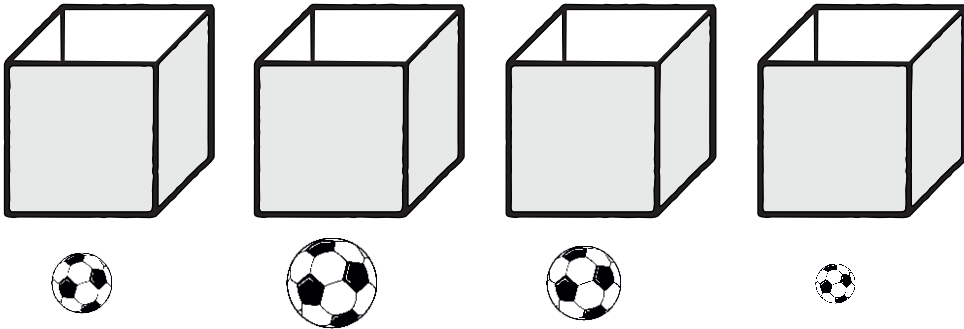
سوال: 2 دی گئی تصویر میں کون سا بچہ درخت سے زیادہ دور ہے؟



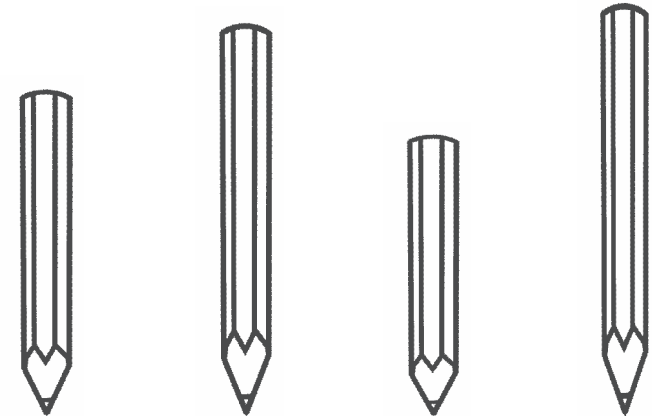
سوال: 1 دی گئی تصویر میں کون سا کتا ڈبے کے اندر ہے؟




سوال: 4 یہاں ایک ہی حجم کے 4 ڈبے ہیں۔ اگر ہم ہر ڈبے کو مکمل طور پر اُس کے ساتھ پڑی ہوئی گیند سے بھریں۔ تو کس ڈبے میں گیندوں کی تعداد سب سے زیادہ ہوگی؟



سوال: 3 دی گئی تصویر میں کون سی پنسل سب سے چھوٹی ہے؟





نیچے دیئے گئے چارٹ کو غور سے دیکھیے



سوال: 5 یہاں کتنے سیب ہیں؟

سوال: 6 یہاں مالٹوں سے کتنے کیلے تعداد میں زیادہ ہیں؟

اس گھڑی پہ کیا وقت ہوا ہے؟





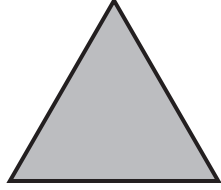

نیچے دیئے گئے کیلنڈر کو غور سے دیکھیں۔

مارچ 2019						
اتوار	پیر	منگل	بدھ	جمعرات	جمعہ	ہفتہ
					1	2
3	4	5	6	7	8	9
10	11	12	13	14	15	16
17	18	19	20	21	22	23
24	25	26	27	28	29	30
31						

سوال: 9 مارچ کی 4 تاریخ کو کونسا دن ہے؟

سوال: 10 اس ماہ کے دوسرے بدھ کے دن کون سی تاریخ ہے؟

سوال: 12 دی گئی اشکال میں سے کس شکل کو مثلث کہتے ہیں؟




سوال: 11 ان میں سے کونسی لکیر سیدھی ہے؟



سوال: 14 نیچے مختلف اشیاء کے چار گروپ دیئے گئے ہیں؟ ان کو غور سے دیکھیں کہ کس گروپ میں اشیاء کی تعداد سب سے زیادہ ہے؟



سوال: 13 تصویر میں کتنے پرندے ہیں۔ نیچے دیئے گئے اعداد میں سے صحیح کا انتخاب کریں۔



9

8

6

5

دیئے گئے سوالات کو حل کیجیے۔

سوال: 19

$$8 \div 4 =$$

سوال: 18

$$3 \times 2 =$$

سوال: 17

$$\begin{array}{r} 47 \\ - 23 \\ \hline \\ \hline \end{array}$$

سوال: 16

$$\begin{array}{r} 34 \\ + 15 \\ \hline \\ \hline \end{array}$$

سوال: 15 اعداد پہچانیں۔

1	4
0	9
7	

5 اعداد میں سے 4 اعداد درست ہونے چاہئیں۔

دیئے گئے سوالات کو حل کیجیے۔

سوال: 24

$$6 \overline{) 91}$$

سوال: 23

$$\begin{array}{r} 32 \\ \times 7 \\ \hline \\ \hline \end{array}$$

سوال: 22

$$\begin{array}{r} 78 \\ - 49 \\ \hline \\ \hline \end{array}$$

سوال: 21

$$\begin{array}{r} 57 \\ + 18 \\ \hline \\ \hline \end{array}$$

سوال: 20 اعداد کو پہچانیں۔

44	38
83	96
20	

5 اعداد میں سے 4 اعداد درست ہونے چاہئیں۔

سوال: 26 سوال کو غور سے سنیں، حل کریں اور جواب دیں۔

ایک دکاندار کے پاس 42 پھول ہیں اگر وہ 3 پھول ایک ٹوکری میں رکھتا ہے تو تمام پھول رکھنے کے لیے کتنی ٹوکریاں چاہیے ہوں گی؟

سوال: 25 سوال کو غور سے سنیں، حل کریں اور جواب دیں۔

ایک سکول میں 41 بچے تھے۔ اُن میں سے 24 بچے گھر چلے گئے۔ اب سکول میں کتنے بچے باقی ہیں؟



Sample-1

Words الفاظ

02

آگ بات

وقت گائے کھیل

شوق ادب

گاڑی زمین چڑیا

Ask the child to read 5 words of his own choice of which 4 must be correct.

بچے سے کہیں کہ وہ اپنی مرضی کے کوئی بھی 5 الفاظ پڑھے جس میں سے
4 صحیح ہونے چاہئیں

PAGE

①

Sample-1

Letters حروف

01

ب م

ص ط خ

غ ل

ش گ ی

Ask the child to read 5 Letters of his own choice of which 4 must be correct.

بچے سے کہیں کہ وہ اپنی مرضی کے کوئی بھی 5 حروف پڑھے جس میں سے
4 صحیح ہونے چاہئیں



Urdu Tools



Start from Here

Sample-1

کہانی Story

04

عالیہ کو پودے لگانے کا بہت شوق تھا۔ ایک دن عالیہ نے ایک خالی ڈبہ لیا۔ اُس میں مٹی ڈالی اور ایک ننھا پودا لگایا۔ اُس نے پودے کو پانی دیا اور اُسے روشنی میں رکھا۔ چند دنوں میں پودا بڑا ہو گیا۔ وہ ہر ابھرا پودا سکول لے گئی۔ اُسکی اُستانی اُسے پودے کے ساتھ دیکھ کر بہت خوش ہوئی۔ اُستانی جی نے عالیہ کو شاباش دی اور باقی بچوں سے بھی پودے لگانے کے لئے کہا۔ اس طرح سب بچے اپنے اپنے پودے سکول لے کر آئے اور سکول ہر ابھرا ہو گیا۔

بونس سوالات BONUS QUESTIONS

Q1 عالیہ کو کیا شوق تھا؟

Q2 اُستانی جی نے سب بچوں سے کیا کہا؟

Child should read the story fluently.

روانی سے کہانی کے طور پر پڑھ سکے۔

PAGE
②

Sample-1

جملے Sentences

03 a

خنامیری دوست ہے۔
وہ میری ہم جماعت بھی ہے۔
ہم اکٹھے سکول جانے ہیں۔
وہ پڑھائی میں میری مدد کرتی ہے۔

جملے Sentences

03 b

چڑیا دانہ چگتی ہے۔
تتلی باغ میں اُڑتی ہے۔
مینا گانا گاتی ہے۔
طوطا شور مچاتا ہے۔

Show them both Paras and ask the child to read any **one** Para of his own choice.
Child should read the sentences fluently.

بچے کو دونوں پیرا دیکھائیں اور اس سے کہیں کہ وہ اپنی مرضی کا کوئی بھی ایک پیرا پڑھے۔
بچے کو روانی سے جملے پڑھنے چاہئے۔

CPB Urdu Writing Tool Sample 1

Teacher Name: Date:

Surveyor Name (If Different from Teacher):

Hub / School Name: Hub / School ID:

School EMIS Code: District (Circle one): Muzaffargarh / Bahawalpur / Rahim Yar Khan

Child Name: Father Name:

Child ID: Age: Assessment term (Circle one): Baseline Midline Endline

Strand (Circle one): Functional Literacy & Numeracy Short-Term Primary Long-Term Primary

Short-Term Middle Long-Term Middle Matriculation

پڑھنے کی جانچ (سوال نمبر 1 تا 4)

Listening/Writing Q5




سوال نمبر 5 سنو اور لکھو سوال نمبر 1 میں دیئے گئے کوئی سے چار حروف کو صحیح تلفظ کے ساتھ دو مرتبہ بولیں اور بچوں کو لکھنے کا وقت دیں۔

D

C

B

A





Picture Name Q6

سوال نمبر 6

نیچے دیئے گئے خالی ڈبوں میں بچے سے تصویروں کی نشاندہی کروائیں اور نام لکھوائیں۔

B

A



Read/Think and Write

ایک جنگل میں سے بادشاہ کا گزر ہو رہا تھا۔ اس نے دیکھا کہ ایک بوڑھا شخص جس کے ہاتھ میں ایک لاٹھی ہے وہ ایک پودا لگا رہا ہے۔ بادشاہ کو دیکھ کر حیرت ہوئی۔ وہ اپنے گھوڑے سے اتر آیا اور بوڑھے سے پوچھا۔ بابا تم تو بوڑھے ہو چکے ہو، پھر اس پودے کو لگانے کا فائدہ کیا ہے؟ یہ پودا کب درخت بنے گا؟ کب پھل لگیں گے اور کب تم اس کے درخت کے پھل کھاؤ گے؟ یہ سن کر بوڑھا مسکرایا اور کہنے لگا بادشاہ سلامت آج جو پھل ہم کھا رہے ہیں وہ بھی تو ہمارے بڑے بوڑھوں کے لگائے ہوئے درختوں ہی کے ہیں۔ اگر وہ درخت نہ لگاتے تو ہم کیا کھاتے؟ بادشاہ بوڑھے کی باتوں سے اتنا خوش ہوا کہ اسے اشرفیوں کی ایک تھیلی دے دی۔ تھیلی کو کھولتے ہوئے بوڑھے نے بادشاہ سے کہا۔ دیکھا آپ نے ابھی اس درخت کو پھل بھی نہیں لگے لیکن یہ مجھے اشرفیاں دے گیا!

پہلے عبارت نیچے کو پڑھ کر سنائے اور اس کے بعد اس سے سوال پوچھیں۔ عبارت اور سوال کو ٹیچر دو (2) سے زیادہ مرتبہ نہ دہرائے۔ ہر سوال کے لئے نیچے سے پہلے اس سوال کا جواب زبانی لیں اور پھر اس سے نیچے دی گئی جگہ پر جواب لکھوائیں۔

سوال نمبر-7 جنگل میں بادشاہ نے کیا دیکھا؟

سوال-8 بوڑھے شخص کی کس بات سے بادشاہ خوش ہوا؟

نوٹ:

- سوال نمبر 7 اور 8 کے زبانی جوابات صرف اس شیٹ (Sheet) پر مارک ہوں گے۔ لکھے ہوئے جوابات اس شیٹ (Sheet) اور Assessment Sheet دونوں پر مارک ہوں گے۔
- نیچے سے جواب میں پورا جملہ لکھوائیں۔ صرف ایک لفظ ادھورا جواب مانا جائے گا۔

سوال-9 نیچے دیئے گئے حروف میں سے کسی ایک کو لفظ بنائیں

س + و + ر + ج

پ + ا + ن + ی

STP *ASSESSMENT*

Baseline Assessment STP
Advancing Action for Adolescent Girls

Grade: 5

Subject: English

Total Marks: 50

Name: _____ **Father's Name:** _____

Age: _____

1: Circle the correct preposition that completes the following sentence: (10)

- i. The birds are flying _____ the sky.
(a) on (c) in
(b) over (d) at
- ii. Complete the following sentence using the correct verb form.
I was _____ to park when she came.
(a) go (c) went
(b) gone (d) going
- iii. Sara is an intelligent girl. In this sentence the word “intelligent” describes:
(a) Adjective (c) Noun
(b) Verb (d) Interjection
- iv. Write the given words in the correct order to make a complete sentence.
Wants / car / He / buy / to / a /

- v. Circle the sentence with the correct punctuation.
(a) Indus is longest river in Pakistan.
(b) Indus is longest river in pakistan.
(c) indus is longest river in Pakistan.
(d) Indus is Longest river in pakistan.
- vi. In the poem “Allah loves me”, Allah is always _____ the poet when he cries or smiles.
(a) near (c) away from
(b) far from (d) beyond
- vii. Fatima Jinnah was a _____ by profession.
(a) teacher (c) dentist
(b) lawyer (d) writer
- viii. Never take medicine on an empty _____. (A fit and healthy life)
(a) feet (c) head

- (b) stomach (d) hands

ix. Raffay was _____ for his behavior.

- (a) sorry (c) angry
(b) glad (d) sad

x. Sara's father could not buy her a new _____.

- (a) shoes (c) doll
(b) toy (d) dress
(c)

2: Make sentences of the following words.

(5)

1. Food 2. Pray 3. School 4. Fish 5. Book

3: Write a word that rhymes with the word:

(4)

1. Life _____
2. Kite _____
3. May _____
4. Wall _____

4: Read the given passage carefully. Circle the correct options:

(5)

It was a very hot day. When school ended, all the students made a queue and left their classrooms for home. As Raffay was walking home he saw his classmate Mohsin coming towards him on a bicycle. He passed by without noticing him. Mohsin seemed to be in a hurry. After passing him, Raffay saw a wallet lying on the road. He picked it up and found three thousand rupees in it. He realized that Mohsin had accidentally dropped his wallet on the road.

- Raffay was walking:
(a) school (b) home (c) park (d) hotel
- Mohsin was on a:
(a) bike (b) car (c) bicycle (d) bus
- Raffay saw a _____ on the road:
(a) Cell phone (b) coin (c) toy (d) wallet
- He found _____ rupees in wallet.
(a) Three thousand (b) four thousand (c) five thousand (d) six thousand
- Mohsin had dropped his wallet on:
(a) Roof (b) road (c) floor (d) table

Q no 5: Find out verbs in the following paragraph.

(4)

Summer holidays had started. Hafsa was getting bored. She anxiously waited for the storybooks her mother had ordered. The doorbell was ringing. Her mother called out from the kitchen. "Mama I am going" responded Hafsa. She opened the door and postman was standing there.

(8)

1. Where are the boats floating?

2. What kind of boats are there?


3. What is the Lisa's favorite boat?

4. What is the best part of summer?

(6)

1. Adverb 2. Common noun

(8)



Baseline Assessment STP
Advancing Action for Adolescent Girls

Grade: 5

Subject: Science

Total Marks: 50

Name: _____ Father's Name: _____

Age: _____

Please attempt all given questions.

Section-I

Tick the correct option.

10

i. Algae belongs to:

- | | |
|-------------|------------|
| a. Monera | c. Fungi |
| b. Protista | d. Planate |

ii. COVID-19 is:

- | | |
|-------------|----------|
| a. Virus | c. Polio |
| b. Bacteria | d. None |

iii. Which type of pollination is must for papaya?

- | | |
|---------------------|----------------------|
| a. Self-pollination | c. Cross-pollination |
| b. Both a and c | d. None |

iv. The change of milk into yogurt is:

- | | |
|--------------------|--------------------|
| a. Physical Change | c. Chemical Change |
| b. Climate Change | d. Color Change |

v. An example of Luminous Object is:

- | | |
|--------------------|----------|
| a. Moon | c. Earth |
| b. Lighted candled | d. Book |

vi. Particle with positive charge is:

- | | |
|------------|-------------|
| a. Proton | c. Electron |
| b. Neutron | d. Positron |

vii. Which of the following is a planet?

- | | |
|----------|----------|
| a. Earth | c. Moon |
| b. Sun | d. Stars |

viii. The emergency phone call number is:

- | | |
|---------|---------|
| a. 2211 | c. 1133 |
| b. 1122 | d. 0911 |

ix. Which type of soil is good for growth of plants:

- | | |
|---------|---------|
| a. Sand | c. Silt |
| b. Clay | d. Rock |

x. The given diagram shows:




- | | |
|----------------------|---------------------|
| a. Forest Fire Smoke | c. Industrial smoke |
| b. Vehicle smoke | d. None |

SECTION II

Answer the following short questions.

Total Marks:20

- i. Write the name of five kingdoms Organisms. (2)
- ii. Write two benefits of bacteria. (2)
- iii. Explain evaporation. (2)
- iv. Differentiate between luminous and non-luminous objects. (2)
- v. What is Fuse? (2)
- vi. Write some sources of water. (2)
- vii. What is noise? (2)
- viii. What is LED? (2)
- ix. Explain evaporation. (2)
- x. Label the given Diagram. (2)




Section III

Answer the following questions in detail.

Total Marks:20

1. Define Environmental Pollution and its two types. (7)
2. Describe charges and their properties. (5)
3. Label the given diagram and explain sexual reproduction in plants. (8)



سیانسی سہیلیاں

اُردو

کل نمبر: 50

جماعت: پنجم

نام: _____

سوال نمبر 1: درست جواب کے گرد دائرہ لگائیں۔

i. کسی بات کو مکمل کرنے کیلئے جملے میں کوئی علامت استعمال کی جاتی ہے؟

(ا) سکتہ (ب) ختمہ (ج) وقفہ (د) واوین

ii. پولوئج کے کھلاڑی سوار ہوتے ہیں:

(ا) بیلوں پر (ب) خچروں پر (ج) اونٹوں پر (د) گھوڑوں پر

iii. ہرپیشے کے لیے ایک جیسی _____ درکار نہیں ہوتی۔

(ا) ہمت (ب) عمر (ج) طاقت (د) قابلیت

iv. ہمارے ملک کے لوگوں کی ایک بڑی تعداد کا احصار ہے:

(ا) کھیتی باڑی پر (ب) دکان داری پر (ج) مزدوری پر (د) درس و تدریس پر

v. حضرت عثمان رضی اللہ تعالیٰ عنہ خلیفہ رہے تقریباً:

(ا) دس سال (ب) گیارہ سال (ج) بارہ سال (د) تیرہ سال

vi. جنت البقیع قریب ہے:

(ا) مسجد ہلال کے (ب) مسجد نبوی کے (ج) مسجد قبا کے (د) مسجد غمامہ کے

vii. شہریار کو جب بھی پڑھائی میں مشکل ہوتی ہے وہ _____ سے مدد لیتا ہے۔

(ا) کتاب (ب) انٹرنیٹ (ج) بھائی (د) استاد

viii. سکاؤٹس کے درجے ہیں:

(ا) تین (ب) چار (ج) پانچ (د) سات

ix. ظفر نے عابد کے لیے ایک _____ خریدی۔

(ا) گھڑی (ب) کتاب (ج) سفید چھڑی (د) ٹوپنی

x. ہر پہ صرف _____ کا تاریخی مقام ہے۔

(ا) پاکستان (ب) چین (ج) یورپ (د) امریکہ

سوال نمبر 2: درج ذیل فقرات میں سے فعل ماضی، فعل حال اور مستقبل کی نشاندہی کریں

i. ہم کل پارک میں سیر کے لیے جائیں گے۔

ii. کنواں چل رہا ہے۔

iii. سب لوگ اپنا کام وقت پر کر رہے تھے۔

سوال نمبر 3: درج ذیل الفاظ کو جملوں میں استعمال کریں۔

(ا) محنت:

(ب) بیماری:

(ج) خیر:

(د) کنواں:

(س) مزار:

سوال نمبر 5: سوالات کے جوابات دیں۔

i. خادم اور غلام کے بارے میں آپ صلی اللہ علیہ وآلہ وسلم نے کیا فرمایا؟

ii. قصہ خوانی بازار کہاں واقع ہے اور اس کی وجہ شہرت کیا ہے؟

iii. ہرمزان نے سزا سے بچنے کے لیے کیا طریقہ اختیار کیا اور کیوں۔

iv. کسی بھی پیشے یا ہنر کو اپنانا کیوں ضروری ہے؟

v. ہر پہ میں کس قسم کے مکانات تعمیر کیے جاتے تھے؟

سوال نمبر 6: اسم معرفہ اسم نکرہ کی تعریف اور مثالیں لکھیں۔

سوال نمبر 4: درخواست برائے ضروری کام لکھیں۔

سوال نمبر 7: دیئے گئے پیرا گراف کو پڑھ کر درج ذیل سوالات کے جوابات دیں۔

بلوچستان رقبے کے لحاظ سے پاکستان کا سب سے بڑا صوبہ ہے۔ کوئٹہ، خضدار، ژوب اور گوادر اس کے مشہور شہر ہیں۔ کوئٹہ صوبے کا صدر مقام بھی ہے۔ اسے "پھلوں کی وادی" کہتے ہیں۔ یہاں کے لوگوں کا پہناوا شلووار قمیص ہے۔ مردوں کی قمیص شلووار خوب گھیر دار ہوتی ہے۔ جبکہ عورتوں کے کپڑے، شیشوں اور خوبصورت کڑھائی سے مزین ہوتے ہیں۔ "سچی" یہاں کا مشہور اور ہر دل عزیز کھانا ہے۔ یہاں کی خوبصورت "ہنہ جمیل" کو دیکھنے ہر سال بہت سے سیاح آتے ہیں۔ اس کے شہر "زیارت" میں قائد اعظم رحمۃ اللہ علیہ نے اپنی زندگی کے آخری ایام گزارے۔ صوبہ بلوچستان کی سر زمین قدرتی وسائل سے مالا مال ہے۔

i. رقبے کے لحاظ سے پاکستان کا سب سے بڑا صوبہ کونسا ہے؟

ii. بلوچستان کے مشہور شہروں کے نام لکھیں؟

iii. بلوچستان کی عورتیں کس قسم کے کپڑے پہنتی ہیں؟

iv. قائد اعظم رحمۃ اللہ علیہ نے اپنی زندگی کے آخری ایام کہاں گزارے؟

v. "پھلوں کی وادی" کس شہر کو کہتے ہیں؟

Full Book Assessment
Advancing Action for Adolescent Girls

Grade: 5

Subject: Mathematics

Total Marks: 50

Name: _____ **Father's Name:** _____

Age: _____

General instructions:


- There are 3 sections in the paper, all the questions are compulsory.
- Avoid overcutting and use right hand column for rough work.

Section (A)

1. Tick the right options.

(1×10=10)

- (i) In digit 856 211, the digit _____ is at Thousand place.
(a) 2 (b) 5 (c) 6 (d) 8
- (ii) The LCM of two or more prime numbers is always equal to their _____.
(a) Product (b) LCM (c) Quotient (d) Prime factor
- (iii) The product of $\frac{3}{4} \times \frac{4}{3}$ is _____.
(a) 1000 (b) 10 (c) 1 (d) 111
- (iv) 20% Of 540 is _____.
(a) 37 (b) 108 (c) 27 (d) 270
- (v) There are _____ minutes in 5 hours.
(a) 60 (b) 300 (c) 200 (d) 50
- (vi) The price of three chairs is Rs 645. The price of 16 chairs will be _____.
(a) 3040 (b) 3004 (c) 3440 (d) 3404
- (vii) The formula to find the perimeter of rectangle is _____.
(a) $2(l + w)$ (b) $2l + w$ (c) $l + 2w$ (d) $l + w$
- (viii) The supplement of 20° is:
(a) 160° (b) 40° (c) 70° (d) 80°
- (ix) There are _____ months in $\frac{1}{2}$ years.
(a) 6 (b) 12 (c) 9 (d) 5

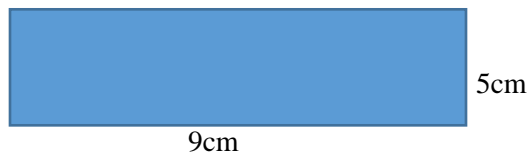
- (x) The order of the rotational symmetry of the shape  is
- (a) One (b) Two (c) Three (d) Four

Section (B)

Q no 2. Short questions

(2×10=20)

- Write 433,453 in words.
- What is the difference between complementary and supplementary angles?
- In 5 bags, 3.75kg of flour is to be packed. How much flour will be in each bag?
- Find the LCM of 20, 15.
- Solve $4\frac{1}{6} - \frac{17}{18}$.
- Noman ate $\frac{1}{8}$ of a pizza. How can we write this in decimals?
- The height of Miner-e-Pakistan is 70m. What will be the height in Centimeter's?
- An author writes a book in 90 days. In how many months does he write the book?
- Define area and perimeter.
- Find the perimeter of given rectangle.



Section (C)

Q no 3. Long questions.

(5×4=20)

Find the minimum length of carbon which can completely be cut into pieces of length 45cm, 75 cm, and 85 cm without any left over.

- If the fare of 34 km is Rs 1190, what will be the fare for 48 km?
- Draw a triangle ABC in which, $\angle A = 75^\circ$, $AB = 4$ cm, and $\angle B = 55^\circ$.
- Find the average of 4, 13, 25, 32, 42, 52.

4. The statistics of patients visiting a hospital for 5 months is given below. Draw a vertical bar of given data.

Months	February	March	April	May	June
Number of patients	2	6	10	12	15

SHORT TERM

MIDDLE

GRADE 8

URDU

کل نمبر 25

(1)

سوال نمبر ۱: واحد کے جمع لکھیں:

جمع

واحد

میز

کرسی

سوال نمبر ۲: نئے الفاظ یا تراکیب بنانے کے لیے الفاظ کے شروع میں جن الفاظ کا اضافہ کیا جاتا ہے انہیں سابقہ کہتے ہیں مثلاً: بے غرض، بے شمار۔ ذیل میں دئے گئے الفاظ میں سے سابقہ بنائیں۔ (2)

سابقہ

الفاظ

پا

بد

بے

لا

(1)

سوال نمبر ۳: درج ذیل الفاظ کے معنی تحریر کریں۔

معانی

الفاظ

سنان

قوی

(2)

سوال نمبر ۴: جملوں میں استعمال کریں۔

جملے

الفاظ

ملاقات

دشمن

سوال نمبر ۵: جملوں کو درست کر کے لکھیں۔

(2)

درست جملے

نقاط جملے

دونوں کتابوں میں اکیس بیس کا فرق ہے۔

یہ دہی کھتا ہے۔

سوال نمبر ۶: درج ذیل فقرات میں سے فعل کو الگ کریں۔

(2)

فعل

(۱) علی فٹ بال کھیل رہا ہے۔

(۲) حنا اپنے بالوں کو کنگھی کر رہی ہے۔

سوال نمبر ۷: پیرا گراف کو پڑھ کر دیے گئے سوالات کے جواب تحریر کریں۔ (4)

ہماری فوج ہماری سرحدوں کی محافظ ہے۔ یہ کسی کو اجازت نہیں دیتی کہ وہ ہمارے ملک کی طرف میلی آنکھ سے دیکھے۔ اگر ملک پر اچانک کوئی آفت ٹوٹ پڑے تو اس موقع پر بھی پاک فوج اپنے بھائیوں کی خدمت کے لئے موجود ہوتی ہے۔ چند سال پہلے ہمارے ملک میں زلزلہ آیا، تو فوج نے امدادی کاموں میں بڑھ چڑھ کر حصہ لیا۔ اسی طرح سیلاب کی مصیبت آئی، تو بھی فوج پیش پیش تھی۔ پاک فوج کے بہادر جوان پانی میں گھرے ہوئے لوگوں کو پانی سے نکال کر محفوظ مقامات تک پہنچاتے رہے۔ پاک فوج ہمارے ملک کا اہم قومی ادارہ ہے۔

درست جواب پر دائرہ لگائیں:

1 ہمارے ملک میں زلزلہ، سیلاب یا کوئی اور مصیبت آئے تو کون پیش پیش ہوتا ہے؟

(a) پولیس (b) ادارہ شہری دفاع (c) پاک آرمی (d) سول سوسائٹی

2 پاک فوج ہمارے ملک کا اہم ادارہ ہے:

(a) قومی (b) صوبائی (c) ضلعی (d) علاقائی

3 اس پیرا گراف میں کتنی آفات کا ذکر ہے؟

(a) 2 (b) 4 (c) 6 (d) 8

4 فوج کی بنیادی ذمہ داری ہے:

(a) سرحدوں کی حفاظت (b) سیلاب سے بچاؤ (c) زلزلہ میں مدد (d) بھائیوں کی خدمت

سوال نمبر ۸: پرنسپل کے نام فیس معافی کی درخواست تحریر کریں۔ (5)

سوال نمبر ۹: اپنا پسندیدہ شعر، نظم یا گانا تحریر کریں اور اس کا مفہوم بیان کیجئے۔ (6)

ENGLISH

Total Marks: ____ / 20

Please attempt all questions on this test.

Q1. Ayesha said, "I want to meet your parents." The correct indirect form of this is:

(Circle one)

(1)

- A. Ayesha wants to meet your parents.
- B. Ayesha will meet her parents.
- C. Ayesha will meet your parents.
- D. Ayesha wants to meet her parents.

Q2. Fill in the blank with the correct Present Continuous Tense using the verb in brackets.

(1)

The children _____ (play) in the ground.

Q3. Choose the best answer to complete the sentence.

(1)

He _____ two brothers and a sister.

- A. have B. have got C. has D. have got

Q4. Change the given sentence into negative and interrogative sentences.

(2)

We have finished our homework.

Negative sentence: _____

Interrogative sentence: _____

Q5. Punctuate the given sentence.

(1)

When do we go to the park

Q6. Read the given passage and answer the questions.

(7)

One day, the old emperor Shah Jahan became ill. Aurangzeb, Shah Jahan's son who had always dreamed of becoming emperor, quickly put his ill father in jail. Jahanara Begum, the eldest child of Shah Jahan, did not leave her father and went to the jail along with him. She said, "I shall share the suffering of my father. He needs me in his old age so I shall never leave him." Shah Jahan lived in the jail for seven years before he died. During that period, Jahanara Begum stayed with him and took care of him. After the death of her father, she returned back to her own palace. She continued to live there and spent the rest of her life serving the needy and poor. Before her death, she gave all her money to the needy and poor.

6A. Who was Shah Jahan's eldest child?

6B. What did Aurangzeb do when Shah Jahan became ill?

6C. What did Jahanara Begum do before her death?

6D. Find the words in the passage that have the same meaning as:

i. King _____

ii. Sick _____

6E. Give a suitable title to the passage.

Q7. Write a paragraph on one of the topics given below.

(7)

My Village or My Dream

MATH

Total Marks: ____ / 20

Please attempt all questions on this test.

Q1. Write the following sets following form. (4)

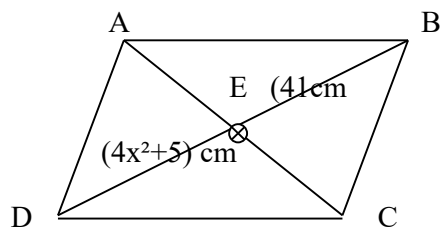
- i. Write letter of the word “hockey”
In Tabular Form: _____
- ii. Write this set of {cricket, football, hockey, tennis}
In Descriptive Form: _____
- iii. {11} is known as :
a) null set b) singleton set c) subset d) power set
- iv. If $X = \{a, b, c\}$ and $Y = \{c, a, b\}$ are these sets equal or not
Tabular Form: _____

Q2. Find the square roots of the given numbers. (4)

- i. Write the square root of 900
- ii. $\sqrt{25}$

Q3. Evaluate $(107)^2$ by using the formula $(a+b)^2 = a^2 + 2ab + b^2$ (4)

Q4. Given that $ABCD$ is a parallelogram, find the value of x , if $m \bar{AE} = m \bar{BE}$ (4)



Q5. Write the name of the given formulae.

(4)

i. $\Delta = \sqrt{s(s-a)(s-b)(s-c)}$

Formula name: _____

ii. $a^2 + b^2 = c^2$

Formula name: _____

DAILY TASKS

1. Daily Tasks

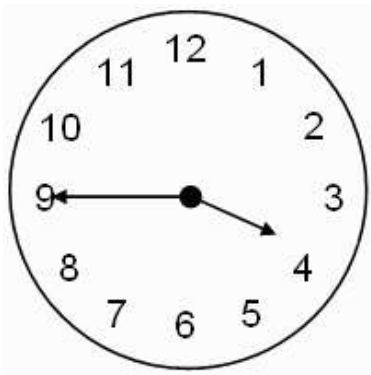
What is the total weight shown in this picture? Add and give the answer in kilograms.

تصویر میں دکھایا گیا مجموعی وزن کیا ہے؟ جمع کر کے کلو گرام میں جواب دیں۔



What is the time shown in this clock?

گھڑی میں نظر آنے والا وقت کیا ہے؟



2. Common Calculations

If this girl sleeps at this time at night and wakes up at this time in the morning then for how many hours does she sleep?

اگر یہ لڑکی رات کو دیئے گئے وقت پر سوتی ہے اور دیئے گئے وقت پر جاگتی ہے تو لڑکی کتنے گھنٹے سوتی ہے؟



3. Financial Calculations

Nasreen's mother had to buy a new sweater. She went to 3 different retailers to compare prices for the same sweater. The retailers offered her different discounts as listed below.

نسreen کی ماں ایک نیا سویٹر خریدنا چاہتی ہے وہ موازنہ کرنے کے لئے تین مختلف دوکانوں پر گئی دکانداروں نے مختلف رعائتی قیمتیں دیں۔

Shop	Discount
Retailer 1	10%
Retailer 2	15%
Retailer 3	20%

Buying the sweater from which retailer will be the cheapest option for Nasreen's mother?

The sweater costs PKR 1000. What is the price of the sweater after the discount?

سویٹر خریدتے وقت نسreen کی ماں کے لئے کونسا دوکاندار سستا ترین ہو گا اور اگر سویٹر کی قیمت ایک ہزار ہو تو سویٹر کی رعائتی قیمت کیا ہو گی۔